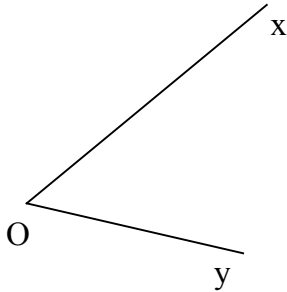


Angle

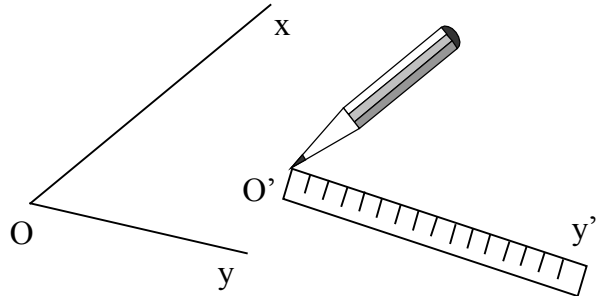
Reporter un angle au compas.

Matériel : Règle, compas.

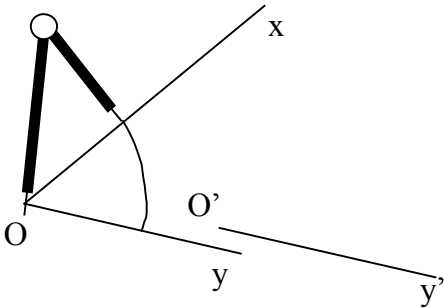
On veut reporter l'angle $x\hat{O}y$.



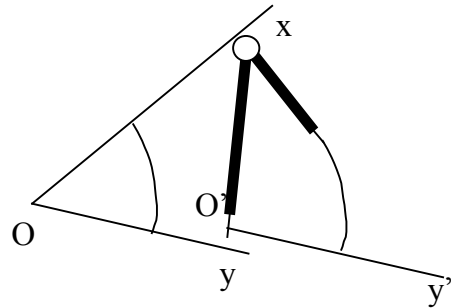
Tracer la demi-droite $[O'y')$ à la règle.



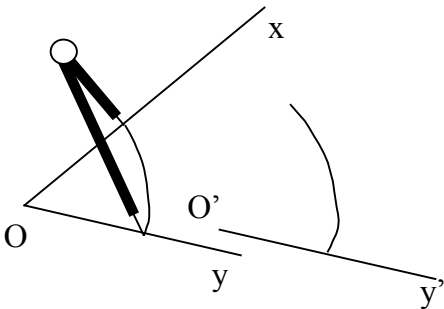
A l'aide du compas, on trace un arc de cercle sur $x\hat{O}y$.



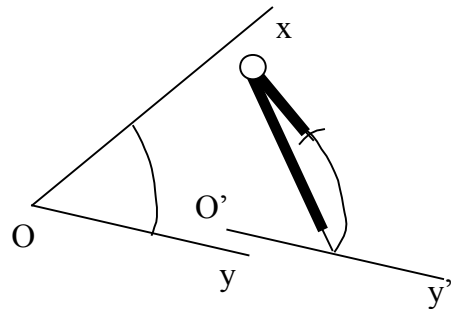
Sans changer l'écartement du compas, tracer le même arc de cercle à partir de $[O'y')$.



Déplacer la pointe sèche du compas à l'intersection de l'arc et du segment sur $x\hat{O}y$ et prendre l'écartement de cet arc.



Reporter cet écartement sur l'autre arc de cercle.



Tracer le segment $[O'x')$

