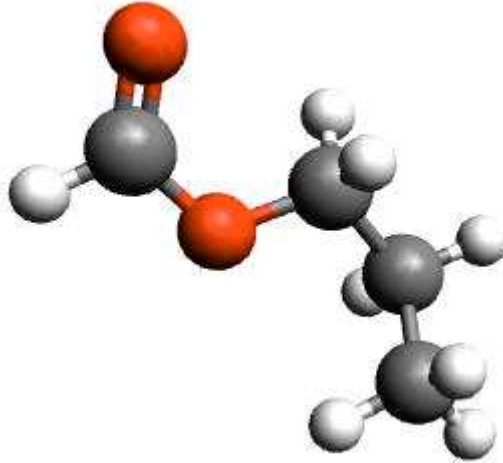


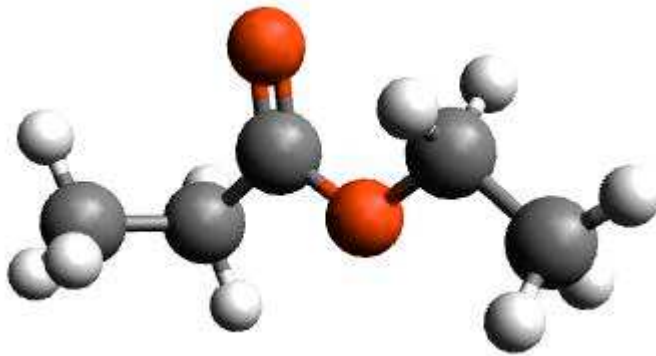
Exercices sur HS 52

Exercice N°1 :

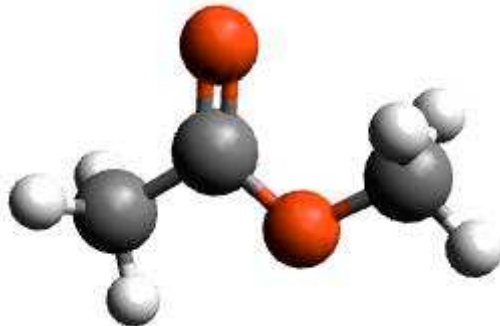
Observer les esters suivants, après avoir donné leur nom, indiquer à partir de quel acide et quel alcool ils ont été formés.



Il s'agit du de formé de l'acide et du



Il s'agit du d' formé de l'acide et de l'



Il s'agit de l' de formé de l'acide et du